

小銭で精算

6種類の硬貨を使って、おつりが出ないように支払い額をきっちり精算しましょう。もっとも少ない枚数ですませるには、どの硬貨を何枚ずつ使えばいいでしょうか。枚数を記入しましょう。

解いた日	
月	日
かかった時間	
約	分


CHECK


この正方形は5cm×5cmです。型紙を出力後、正式なサイズで出力されているかの目安にご利用ください。


5cm×5cm


①


支払い額
68 円



 枚


 枚


 枚



 枚



 枚



 枚


②


支払い額
177 円



 枚


 枚


 枚



 枚



 枚



 枚


③


支払い額
416 円



 枚


 枚


 枚



 枚



 枚



 枚


④


支払い額
693 円



 枚


 枚


 枚



 枚



 枚



 枚


⑤


支払い額
954 円



 枚


 枚


 枚


 枚


 枚


 枚