

ブロックパズル

上の立体を真上と真横から見ると、どんなふうに見えるでしょうか。それぞれ、「見え方」から適切な記号を選んでください。

解いた日
月 日
かかった時間
約 分

CHECK

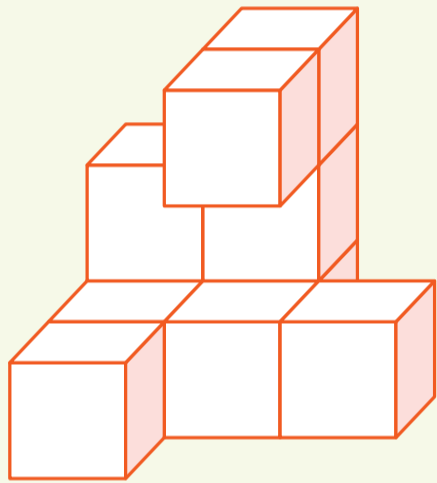
この正方形は5cm×5cmです。型紙を出力後、正式なサイズで出力されているかの目安にご利用ください。
5cm×5cm

答


真上

真横

真上から見る




真横から見る

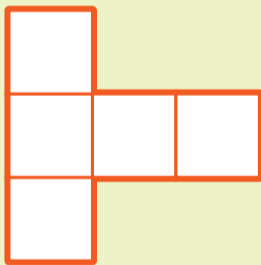


見え方


A




B



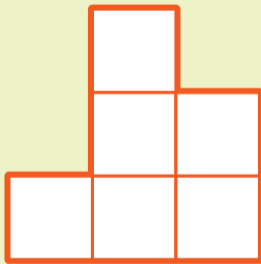
C



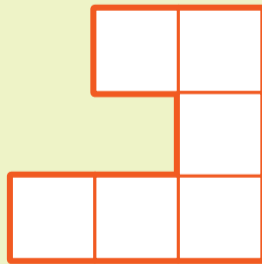
D



E



F



一言メモ