




# 動物計算式

1~5の数字が動物たちに置き換わっています。タテ・ヨコの計算式が成り立つように、どの動物がどの数字を表しているか考えましょう。

解いた日	
月 日	
かかった時間	
約 分	

**CHECK**  
 この正方形は5cm×5cmです。型紙を出力後、正式なサイズで出力されているかの目安にご利用ください。  
 5cm×5cm

答


$$\begin{array}{ccccccc}
 \text{pig} & - & \text{giraffe} & - & \text{giraffe} & = & 1 \\
 + & & + & & + & & \\
 \text{rabbit} & + & \text{rabbit} & + & \text{rabbit} & = & 6 \\
 + & & + & & + & & \\
 \text{pig} & + & \text{chicken} & - & \text{frog} & = & 4 \\
 \parallel & & \parallel & & \parallel & & \\
 8 & & 8 & & 7 & & 
 \end{array}$$